

7. b kategorija
7. b kategorija

grupa B




Drniš, 26. i 27. travnja 2025

Ime i prezime: _____

1. a) Izgradi intervale na zadanom tonu u smjeru strelice:

16 bodova



p.4↑

m.7↓

v.2↑

m.6↓

m.3↑


s.5 ↓

v.6↑

v.7↓

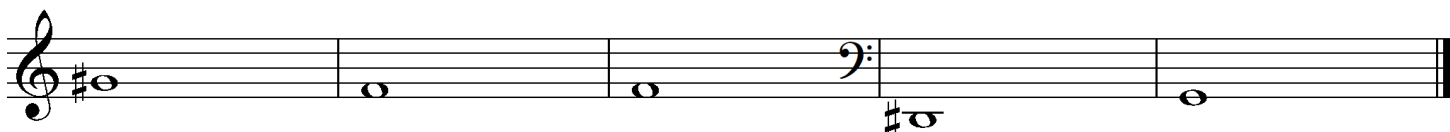
b) Prepoznavaj i napiši vrstu i veličinu zadanih intervala:

16 bodova



2. a) Izgradi kvintakorde ili obrate na zadanim tonovima uzlazno:

10 bodova



M₃⁶

D₄⁶

S₃⁵

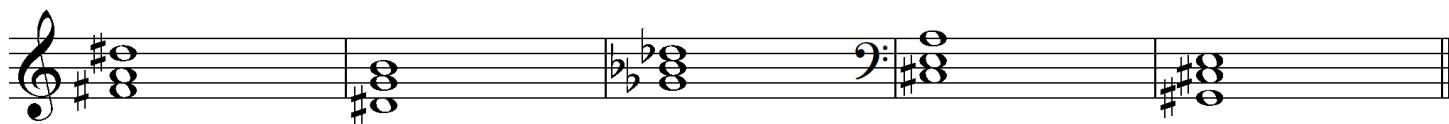
M₄⁶

P₃⁶

7. b kategorija

b) Prepoznaš i napišeš vrstu kvintakorda ili obrata:

10 bodova



3. Napišeš enharmonijsku zamjenu (oba tona) zadanog intervala i odredi njihovu veličinu i vrstu:

12 bodova



4. Izgradi zadane dominantne septakorde ili obrate u zadanim tonalitetima:

12 bodova



B: D_3^4

fis: D_2

E: D_7


a: D_5^6

G: D_2

d: D_3^4

5. Napišeš predznake zadanih tonaliteta u violinskom i bas ključu (u oba crtovlja):

12 bodova



b mol

Cis dur

gis mol

As dur

7. b kategorija

6. Prepoznaj tonalitet melodijskih primjera:

12 bodova

a)



b)



c)



_____od ukupno 100 bodova

Članovi ocjenjivačkog suda:

1. _____

2. _____

3. _____